

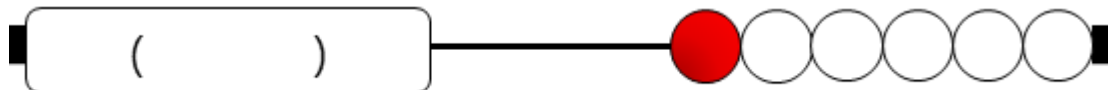
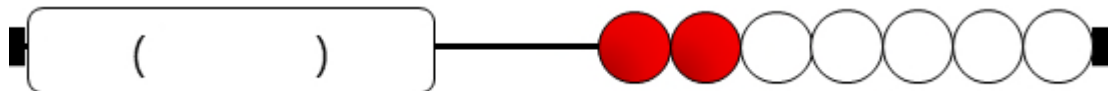

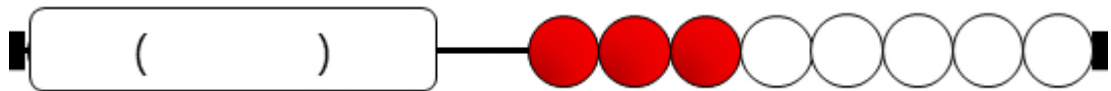

배움 18. 레컨릭으로 10에서 빼고 남은 수 알아보기



월 일

1. 보기와 같이 가리개 밑에 구슬이 몇 개 남았을지 써보세요.

(3)

한줄에 구슬은 모두 10개!
3개가 빠졌으니
7개가 남았겠구나!





2. 10에서 빼면 몇이 남을지 써보세요.



빼 구슬	2 개
남은 구슬	()개

빼 구슬	5 개
남은 구슬	()개

빼 구슬	3 개
남은 구슬	()개

빼 구슬	6 개
남은 구슬	()개

빼 구슬	7 개
남은 구슬	()개

빼 구슬	4 개
남은 구슬	()개

빼 구슬	8 개
남은 구슬	()개

빼 구슬	9 개
남은 구슬	()개

3. 뺄셈을 해보세요.

$10 - 9 = \square$

$10 - 5 = \square$

$10 - 2 = \square$

$10 - 8 = \square$

$10 - 4 = \square$

$10 - 1 = \square$

$10 - 3 = \square$

$10 - 7 = \square$

$10 - 6 = \square$